

**ВСЕРОССИЙСКАЯ ОЛИМПИАДА ШКОЛЬНИКОВ  
ИСТОРИЯ. 2020–2021 уч. г. ШКОЛЬНЫЙ ЭТАП  
5 КЛАСС**

**ОТВЕТЫ И КРИТЕРИИ ОЦЕНИВАНИЯ**

**1.** Расположите исторических деятелей в хронологической последовательности их деятельности. Ответ внесите в таблицу в виде последовательности букв.

- А) Пётр I
- Б) Владимир Креститель
- В) Юрий Долгорукий
- Г) Юрий Гагарин
- Д) Иван Грозный
- Е) Александр Сергеевич Пушкин

**Ответ:**

1	2	3	4	5	6
Б	В	Д	А	Е	Г

**7 баллов за полностью верную хронологию. 2 балла за хронологию с одной ошибкой (т. е. верная последовательность восстанавливается путём перестановки любых двух символов). За две и более ошибки – 0 баллов.**

**Максимум за задание – 7 баллов.**

**2.** Верны ли следующие утверждения («да» – «нет»)? Ответы внесите в таблицу

**2.1.** Историки получают знания о прошлом в основном из исторических источников.

**2.2.** Работа археолога связана с изучением жизни современных ему народов.

**2.3.** Исторические источники делятся на письменные, вещественные и устные.

**2.4.** Цивилизация Древнего Египта является одной из самых ранних в истории человечества.

**2.5.** Большую часть XX века территория современной России входила в состав государства, которое называлось СССР.

**2.6.** Кузьма Минин и Дмитрий Пожарский являются героями Великой Отечественной войны.

**2.7.** Современная Россия является многонациональной и многокультурной страной.







**Ответ:**

2.1	2.2	2.3	2.4	2.5	2.6	2.7
да	нет	да	да	да	нет	да

**По 1 баллу за каждый верный ответ.**

**Максимум за задание – 7 баллов.**

**3.** Перед вами изображения различных орудий труда и производства, которые человек когда-либо использовал. Расположите представленные изображения в хронологической последовательности появления орудий труда, которые на них изображены. В ответе запишите получившуюся последовательность цифр.

<b>А</b> 	<b>Б</b> 
<b>В</b> 	<b>Г</b> 
<b>Д</b> 	<b>Е</b> 

**Ответ:**

<b>1</b>	<b>2</b>	<b>3</b>	<b>4</b>	<b>5</b>	<b>6</b>
А	Д	Е	Б	В	Г

**7 баллов за полностью верную хронологию. 2 балла за хронологию с одной ошибкой (т. е. верная последовательность восстанавливается путём перестановки любых двух символов). За две и более ошибки – 0 баллов.**

**Максимум за задание – 7 баллов.**

**4.** У каждого историка, как правило, есть *специализация* – та область исторического знания, в которой он разбирается лучше, чем во всех остальных. Соотнесите названия специализаций историков, с определениями, которые их описывают. Ответы внесите в таблицу.

Специализация, связанная с историей	Описание
А) архивовед	1) Этот историк является специалистом по изучению исторических источников, их описанию и классификации.
Б) археолог	2) Историк с этой специализацией изучает историю Средних веков.
В) медиевист	3) Такой историк изучает историю Древней Греции и Древнего Рима (античную историю) и Древнего Востока.
Г) антиковед	4) Этот учёный занимается раскопками с целью изучения жизни людей до и после появления письменности.
Д) этнолог	5) Такой учёный занимается изучением истории и практики организации и функционирования архивов.
Е) источниковед	6) Этот учёный изучает историю, культуру и обычаи различных народов (этносов) России и мира.

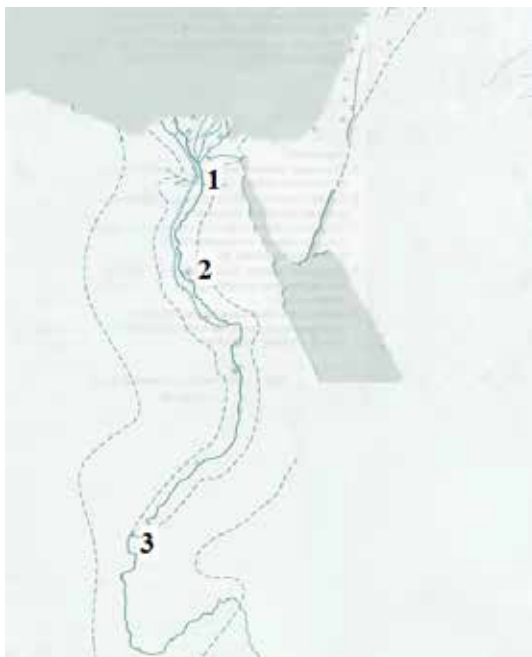
**Ответ:**

А	Б	В	Г	Д	Е
5	4	2	3	6	1

**По 2 балла за каждый верный ответ.**

**Максимум за задание – 12 баллов.**

**5. Ознакомьтесь со схемой и выполните задания.**



**5.1. Укажите названия государства, границы которого можно наблюдать на схеме.**

**Ответ: Древний Египет (2 балла).**

**5.2. Укажите название реки, которая протекала по территории этого государства.**

**Ответ: Нил (2 балла).**

**5.3. Выберите из приведённого ниже списка верные утверждения, связанные с рекой, протекающей по территории этого государства.**

- А) Наиболее развитое земледелие в обозначенном на схеме государстве приходилось на районы дельты и русла этой реки.
- Б) Разливы реки происходили всегда в разное время года.
- В) После разлива реки почвы дельты и русла оказывались хорошо удобренными.
- Г) Эта река вытекает из Средиземного моря и течет вглубь Африки.

**Ответ: А, В.**

**По 2 балла за каждый правильный ответ. Максимум за пункт – 4 балла.**

**5.4. Укажите название города, который был столицей этого государства в эпоху Древнего царства. Выберите цифру, которая обозначает положение этого города на карте.**

**Ответ: Мемфис (2 балла); цифра 1 (2 балла).**

**Максимум за задание – 12 баллов.**

**Максимум за работу – 45 баллов.**