

ВСЕРОССИЙСКАЯ ОЛИМПИАДА ШКОЛЬНИКОВ
ИСТОРИЯ. 2020–2021 уч. г. ШКОЛЬНЫЙ ЭТАП
5 КЛАСС

1. Расположите исторических деятелей в хронологической последовательности их деятельности. Ответ внесите в таблицу в виде последовательности букв.

- А) Пётр I
- Б) Владимир Креститель
- В) Юрий Долгорукий
- Г) Юрий Гагарин
- Д) Иван Грозный
- Е) Александр Сергеевич Пушкин

Ответ:

1	2	3	4	5	6

7 баллов за полностью верную хронологию. 2 балла за хронологию с одной ошибкой (т. е. верная последовательность восстанавливается путём перестановки любых двух символов). За две и более ошибки – 0 баллов.

Максимум за задание – 7 баллов.

2. Верны ли следующие утверждения («да» – «нет»)? Ответы внесите в таблицу

- 2.1.** Историки получают знания о прошлом в основном из исторических источников.
- 2.2.** Работа археолога связана с изучением жизни современных ему народов.
- 2.3.** Исторические источники делятся на письменные, вещественные и устные.
- 2.4.** Цивилизация Древнего Египта является одной из самых ранних в истории человечества.
- 2.5.** Большую часть XX века территория современной России входила в состав государства, которое называлось СССР.
- 2.6.** Кузьма Минин и Дмитрий Пожарский являются героями Великой Отечественной войны.
- 2.7.** Современная Россия является многонациональной и многокультурной страной.



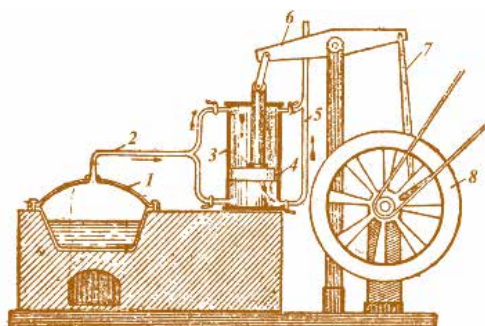



Ответ:

2.1	2.2	2.3	2.4	2.5	2.6	2.7

По 1 баллу за каждый верный ответ.

Максимум за задание – 7 баллов.

3. Перед вами изображения различных орудий труда и производства, которые человек когда-либо использовал. Расположите представленные изображения в хронологической последовательности появления орудий труда, которые на них изображены. В ответе запишите получившуюся последовательность цифр.

А 	Б 
В 	Г 
Д 	Е 

Ответ:

1	2	3	4	5	6

7 баллов за полностью верную хронологию. 2 балла за хронологию с одной ошибкой (т. е. верная последовательность восстанавливается путём перестановки любых двух символов). За две и более ошибки – 0 баллов.

Максимум за задание – 7 баллов.

4. У каждого историка, как правило, есть *специализация* – та область исторического знания, в которой он разбирается лучше, чем во всех остальных. Соотнесите названия специализаций историков, с определениями, которые их описывают. Ответы внесите в таблицу.

Специализация, связанная с историей	Описание
А) архивовед	1) Этот историк является специалистом по изучению исторических источников, их описанию и классификации.
Б) археолог	2) Историк с этой специализацией изучает историю Средних веков.
В) медиевист	3) Такой историк изучает историю Древней Греции и Древнего Рима (античную историю) и Древнего Востока.
Г) антиковед	4) Этот учёный занимается раскопками с целью изучения жизни людей до и после появления письменности.
Д) этнолог	5) Такой учёный занимается изучением истории и практики организации и функционирования архивов.
Е) источниковед	6) Этот учёный изучает историю, культуру и обычаи различных народов (этносов) России и мира.

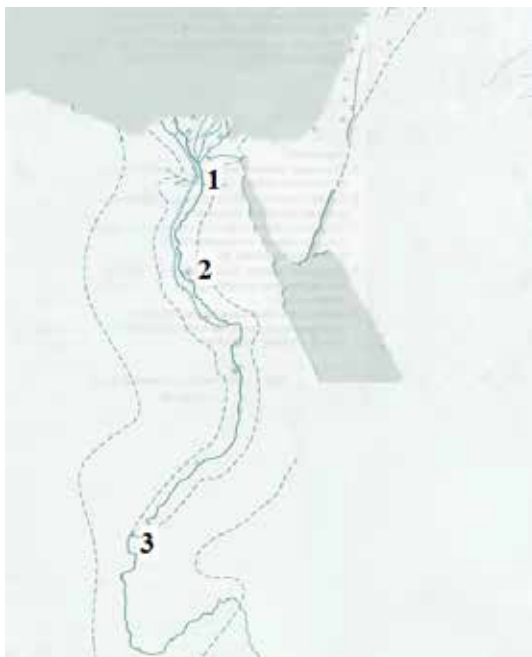
Ответ:

А	Б	В	Г	Д	Е

По 2 балла за каждый верный ответ.

Максимум за задание – 12 баллов.

5. Ознакомьтесь со схемой и выполните задания.



5.1. Укажите названия государства, границы которого можно наблюдать на схеме.

Ответ: _____ (2 балла).

5.2. Укажите название реки, которая протекала по территории этого государства.

Ответ: _____ (2 балла).

5.3. Выберите из приведённого ниже списка верные утверждения, связанные с рекой, протекающей по территории этого государства.

- А) Наиболее развитое земледелие в обозначенном на схеме государстве приходилось на районы дельты и русла этой реки.
- Б) Разливы реки происходили всегда в разное время года.
- В) После разлива реки почвы дельты и русла оказывались хорошо удобренными.
- Г) Эта река вытекает из Средиземного моря и течет вглубь Африки.

Ответ: _____.

По 2 балла за каждый правильный ответ. Максимум за пункт – 4 балла.

5.4. Укажите название города, который был столицей этого государства в эпоху Древнего царства. Выберите цифру, которая обозначает положение этого города на карте.

Ответ: _____ (2 балла); _____ (2 балла).

Максимум за задание – 12 баллов.

Максимум за работу – 45 баллов.