

**ВСЕРОССИЙСКАЯ ОЛИМПИАДА ШКОЛЬНИКОВ
ПО ОБЖ 2020-2021 уч. г. ШКОЛЬНЫЙ ЭТАП**

7-8 классы

ОТВЕТЫ И КРИТЕРИИ ОЦЕНИВАНИЯ

**Методика оценивания выполнения тестовых олимпиадных заданий
теоретического тура**

№ тестового задания	Максимальный балл	Порядок оценивания тестовых заданий
1–10	2	За правильный ответ начисляется 2 балла. 0 баллов выставляется за неправильный ответ, а также, если участником отмечено более одного ответа (в том числе правильный)
11–20	4	За каждый правильный ответ начисляется 2 балла. 0 баллов выставляется за неправильный ответ, а также, если участником отмечены более двух ответов (в том числе правильные)
ИТОГО	60	Общий итоговый балл определяется суммой баллов, полученных за каждое тестовое задание

Таблица ответов на тестовые задания теоретического тура

Номер теста	Верный ответ	Номер теста	Верный ответ
1	2	11	1, 5
2	2	12	1, 2
3	1	13	1, 2
4	2	14	1, 3
5	2	15	1, 3
6	1	16	1, 4
7	3	17	1, 4
8	1	18	2, 4
9	3	19	1, 5
10	1	20	2, 3

Максимум за тестовые задания – 60 баллов.

Тестовые задания

Определите один правильный ответ.

За каждый правильный ответ начисляется 2 балла.

- 1. Время безопасного пребывания человека в воде при температуре воды +5 – +15°C составляет**
 - 1) 7–9 часов
 - 2) 3,5–4,5 часа
 - 3) 10–15 часов
 - 4) 5–6 часов
- 2. Наименьшая цифра на торцах столбов, установленных на перекрёстках просек, расположена на**
 - 1) северо-восточном срезе столба
 - 2) северо-западном срезе столба
 - 3) юго-восточном срезе столба
 - 4) юго-западном срезе столба
- 3. Каково наименование изображённого знака?**
 - 1) движение на велосипедах запрещено
 - 2) велосипедная дорожка
 - 3) велопешеходная полоса
 - 4) конец велосипедной дорожки
- 4. Из перечисленных чрезвычайных ситуаций по характеру источника существуют**
 - 1) химические
 - 2) биолого-социальные
 - 3) технологические
 - 4) психофизиологические
- 5. Движение воздуха относительно земной поверхности со скоростью или горизонтальной составляющей свыше 14 м/с называется**
 - 1) ураган
 - 2) сильный ветер
 - 3) шквал
 - 4) шторм
- 6. Если движение ветра ощущается лицом, шелестят листья, приводится в движение флюгер, то это**
 - 1) лёгкий ветер
 - 2) слабый ветер
 - 3) тихий ветер
 - 4) умеренный ветер



7. За заведомо ложное сообщение об акте терроризма уголовная ответственность наступает с
- 1) 18 лет
 - 2) 16 лет
 - 3) 14 лет
 - 4) 13 лет
8. Двигательной активностью являются
- 1) любые движения, выполняемые в течение дня, недели, месяца
 - 2) только физические занятия в учебное время
 - 3) только организованные физические занятия в свободное время
 - 4) только самостоятельные физические занятия
9. С какого мероприятия начинается оценка обстановки и обеспечение безопасных условий для её оказания?
- 1) с извлечения пострадавшего
 - 2) с определения угрожающих факторов для жизни и здоровья пострадавшего
 - 3) с определения угрожающих факторов для собственной жизни и здоровья
 - 4) с прекращения действия повреждающих факторов на пострадавшего
10. Сколько процентов от площади общей поверхности тела человека составляет площадь ладони?
- 1) один
 - 2) два
 - 3) три
 - 4) пять

Порядок оценивания тестовых заданий с одним правильным ответом.

- За правильный ответ начисляется **2 балла**;
- **0 баллов** выставляется за неправильный ответ, а также если участником отмечено более одного ответа (в том числе правильный).

Определите два правильных ответа.

За каждый правильный ответ начисляется 2 балла.

11. Из представленных растений съедобными являются

- 1) медвежий лук
- 2) красавка
- 3) кровохлёбка
- 4) белена
- 5) лебеда

12. К признакам потенциально опасных интернет-магазинов можно отнести

- 1) низкую цену
- 2) требование предоплаты
- 3) наличие курьерской доставки
- 4) излишне подробное описание товара
- 5) возможность предоплаты

13. Из приведённых ниже продуктов источником белка являются

- 1) морепродукты
- 2) нут
- 3) картофель
- 4) грибы
- 5) томаты

14. К поражающим факторам гололёда относятся

- 1) гравитационный
- 2) физический
- 3) динамический
- 4) психологический
- 5) аэродинамический

15. Какие места на объектах транспортной инфраструктуры во время ожидания транспортного средства являются наиболее безопасными?

- 1) у колонн
- 2) у окна
- 3) у стены
- 4) в углах залов
- 5) в центре зала

16. К опасным факторам пожара, воздействующим на людей и имущество, относятся

- 1) пламя и искры
- 2) опасные факторы взрыва
- 2) воздействие огнетушащих веществ
- 3) вынос высокого напряжения на токопроводящие части изделий
- 4) тепловой поток
- 5) осколки, части разрушившихся зданий

17. Террористическая деятельность включает в себя

- 1) организацию террористического акта
- 2) публичное оправдание терроризма
- 3) возбуждение религиозной розни
- 4) организацию незаконного вооружённого формирования
- 5) насильственное изменение основ конституционного строя Российской Федерации

18. В какие временные периоды отмечается физиологическое повышение работоспособности человека?

- 1) 5.00–7.00
- 2) 8.00–12.00
- 3) 13.00–15.00
- 4) 16.00–18.00
- 5) 19.00–23.00

19. Какие признаки характерны для ожога первой степени?

- 1) отёк
- 2) наличие пузырей с прозрачным содержимым
- 3) отсутствие чувствительности в месте повреждения
- 4) наличие пузырей с кровянистым содержимым
- 5) покраснение

20. В какой точке можно эффективно выполнить пальцевое прижатие артерии?

- 1) выше раны, где артерия расположена глубоко
- 2) выше раны, где артерия расположена поверхностно
- 3) выше раны, где артерия проходит над костью
- 4) ниже раны, где артерия проходит в толще мышцы
- 5) непосредственно в ране

Порядок оценивания тестовых заданий с несколькими правильными ответами

Максимальная оценка за каждое правильно выполненное задание – **4 балла**, при этом:

- за каждый правильный ответ начисляется по **2 балла**;
- **0 баллов** выставляется за неправильный ответ, а также, если участником отмечено более двух ответов (в том числе правильные).

Максимум за тестовые задания – 60 баллов.

Теоретические задания

Задание 1

МВД России создана памятка «Безопасное селфи», где наглядно, в виде пиктограмм, изображены наиболее травмоопасные случаи создания селфи. Впишите значение данных пиктограмм.

Ответ:

	Под напряжением
	При подъёме
	На вагонах поездов
	За рулём
	На крыше здания

Оценка задания

Максимальная оценка за правильно выполненное задание – **10 баллов**, при этом:

- за правильный ответ по каждой из позиций, указанных в варианте ответа, начисляется по **2 балла** (допускаются иные формулировки, не искажающие их смысла);
- при отсутствии правильных ответов баллы не начисляются.

Задание 2

Дополните рекомендации по безопасному поведению при пожаре в лесу вписав недостающие слова.

Если ты обнаружил начинающийся пожар, например, небольшой травяной пал или тлеющую лесную подстилку у брошенного кем-то костра, постарайся затушить его своими силами. Иногда достаточно просто затоптать пламя или _____ (1) его ветками, или одеждой. Если есть лопатка, то можно начать «окапывать» источник огня, забрасывая его, предотвратить _____ (2) огня. После тушения нужно подождать и убедиться, что трава или подстилка действительно не _____ (3), иначе огонь может появиться вновь.

Если ты не можешь потушить возгорание сам – постарайся как можно быстрее оповестить о нём лесхоз, лесничество или по телефону: 01 (101 – для мобильных телефонов, _____ (4) – единый телефон экстренных служб) и выходи из леса. Если обнаружил уже разгоревшийся пожар, и огонь распространяется со скоростью, приблизительно равной скорости твоего движения, двигайся туда, откуда дует ветер, _____ (5) фронту распространения огня.

Ответ:

Если ты обнаружил начинающийся пожар, например, небольшой травяной пал или тлеющую лесную подстилку у брошенного кем-то костра, постарайся затушить его своими силами. Иногда достаточно просто затоптать пламя или захлестать (1) его ветками, или одеждой. Если есть лопатка, то можно начать «окапывать» источник огня, забрасывая его предотвратить распространение (2) огня. После тушения нужно подождать и убедиться, что трава или подстилка действительно не тлеют (3), иначе огонь может появиться вновь.

Если ты не можешь потушить возгорание сам – постарайся как можно быстрее оповестить о нём лесхоз, лесничество или по телефону: 01 (101 – для мобильных телефонов, 112 (4) – единый телефон экстренных служб) и выходи из леса. Если обнаружил уже разгоревшийся пожар, и огонь распространяется со скоростью, приблизительно равной скорости твоего движения, двигайся туда, откуда дует ветер, перпендикулярно (5) фронту распространения огня.

Оценка задания

Максимальная оценка за правильно выполненное задание – **10 баллов**, при этом:

- за каждый правильно заполненный пропуск начисляется по **2 балла** (допускаются слова-синонимы и иные формулировки ответов, не искажающие их смысла);
- при отсутствии правильных ответов баллы не начисляются.

Задание 3

Опишите порядок надевания респиратора по сигналу «Внимание всем! Радиационная опасность», рекомендуемый МЧС России.

Ответ:

1. Задержать дыхание.
2. Снять головной убор.
3. Вынуть респиратор из сумки.
4. Надеть респиратор (в зависимости от модели респиратора, проверить правильность расположения носового зажима).
5. Сделать полный выдох.

Оценка задания


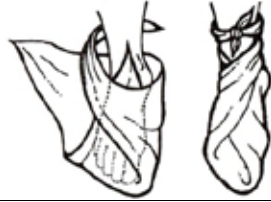


Максимальная оценка за правильно выполненное задание – **10 баллов**, при этом:

- за правильный ответ по каждой из позиций, указанных в варианте ответа, начисляется по **2 балла** (допускаются иные формулировки пунктов, не искажающие их смысла);
- при отсутствии правильных ответов баллы не начисляются.

Задание 4

Установите соответствие между наименованием повязки и её изображением. Запишите в таблицу выбранные цифры под соответствующими буквами.

Наименование повязки	
А	Косыночная повязка
Б	Циркулярная повязка
В	Пращевидная повязка
Г	Спиральная повязка

Изображение повязки	
1	
2	
3	
4	

Ответ:

А	Б	В	Г
2	3	4	1

Оценка задания

Максимальная оценка за правильно выполненное задание – **10 баллов**, при этом:

- за каждый правильный ответ начисляется по **2 балла**;
- за все правильные ответы начисляется дополнительно **2 балла**;
- если указано несколько цифр в одной позиции, то выставляется **0 баллов**;
- при отсутствии правильных ответов баллы не начисляются.

Максимальная оценка за работу – 100 баллов.