

**ВСЕРОССИЙСКАЯ ОЛИМПИАДА ШКОЛЬНИКОВ
ПО ОБЖ 2020-2021 уч. г. ШКОЛЬНЫЙ ЭТАП**

7-8 классы

Тестовые задания

Определите один правильный ответ.

За каждый правильный ответ начисляется **2 балла**.

- 1. Время безопасного пребывания человека в воде при температуре воды +5 – +15°C составляет**
 - 1) 7–9 часов
 - 2) 3,5–4,5 часа
 - 3) 10-15 часов
 - 4) 5–6 часов
- 2. Наименьшая цифра на торцах столбов, установленных на перекрёстках просек, расположена на**
 - 1) северо-восточном срезе столба
 - 2) северо-западном срезе столба
 - 3) юго-восточном срезе столба
 - 4) юго-западном срезе столба
- 3. Каково наименование изображённого знака?**
 - 1) движение на велосипедах запрещено
 - 2) велосипедная дорожка
 - 3) велопешеходная полоса
 - 4) конец велосипедной дорожки
- 4. Из перечисленных чрезвычайных ситуаций по характеру источника существуют**
 - 1) химические
 - 2) биолого-социальные
 - 3) технологические
 - 4) психофизиологические
- 5. Движение воздуха относительно земной поверхности со скоростью или горизонтальной составляющей свыше 14 м/с называется**
 - 1) ураган
 - 2) сильный ветер
 - 3) шквал
 - 4) шторм



- 6. Если движение ветра ощущается лицом, шелестят листья, приводится в движение флюгер, то это**
- 1) лёгкий ветер
 - 2) слабый ветер
 - 3) тихий ветер
 - 4) умеренный ветер
- 7. За заведомо ложное сообщение об акте терроризма уголовная ответственность наступает с**
- 1) 18 лет
 - 2) 16 лет
 - 3) 14 лет
 - 4) 13 лет
- 8. Двигательной активностью являются**
- 1) любые движения, выполняемые в течение дня, недели, месяца
 - 2) только физические занятия в учебное время
 - 3) только организованные физические занятия в свободное время
 - 4) только самостоятельные физические занятия
- 9. С какого мероприятия начинается оценка обстановки и обеспечение безопасных условий для её оказания?**
- 1) с извлечения пострадавшего
 - 2) с определения угрожающих факторов для жизни и здоровья пострадавшего
 - 3) с определения угрожающих факторов для собственной жизни и здоровья
 - 4) с прекращения действия повреждающих факторов на пострадавшего
- 10. Сколько процентов от площади общей поверхности тела человека составляет площадь ладони?**
- 1) один
 - 2) два
 - 3) три
 - 4) пять

Определите два правильных ответа.

За каждый правильный ответ начисляется 2 балла.

11. Из представленных растений съедобными являются

- 1) медвежий лук
- 2) красавка
- 3) кровохлёбка
- 4) белена
- 5) лебеда

12. К признакам потенциально опасных интернет-магазинов можно отнести

- 1) низкую цену
- 2) требование предоплаты
- 3) наличие курьерской доставки
- 4) излишне подробное описание товара
- 5) возможность предоплаты

13. Из приведённых ниже продуктов источником белка являются

- 1) морепродукты
- 2) нут
- 3) картофель
- 4) грибы
- 5) томаты

14. К поражающим факторам гололёда относятся

- 1) гравитационный
- 2) физический
- 3) динамический
- 4) психологический
- 5) аэродинамический

15. Какие места на объектах транспортной инфраструктуры во время ожидания транспортного средства являются наиболее безопасными?

- 1) у колонн
- 2) у окна
- 3) у стены
- 4) в углах залов
- 5) в центре зала

16. К опасным факторам пожара, воздействующим на людей и имущество, относятся

- 1) пламя и искры
- 2) опасные факторы взрыва
- 2) воздействие огнетушащих веществ
- 3) вынос высокого напряжения на токопроводящие части изделий
- 4) тепловой поток
- 5) осколки, части разрушившихся зданий

17. Террористическая деятельность включает в себя

- 1) организацию террористического акта
- 2) публичное оправдание терроризма
- 3) возбуждение религиозной розни
- 4) организацию незаконного вооружённого формирования
- 5) насильственное изменение основ конституционного строя Российской Федерации

18. В какие временные периоды отмечается физиологическое повышение работоспособности человека?

- 1) 5.00–7.00
- 2) 8.00–12.00
- 3) 13.00–15.00
- 4) 16.00–18.00
- 5) 19.00–23.00

19. Какие признаки характерны для ожога первой степени?

- 1) отёк
- 2) наличие пузырей с прозрачным содержимым
- 3) отсутствие чувствительности в месте повреждения
- 4) наличие пузырей с кровянистым содержимым
- 5) покраснение

20. В какой точке можно эффективно выполнить пальцевое прижатие артерии?

- 1) выше раны, где артерия расположена глубоко
- 2) выше раны, где артерия расположена поверхностно
- 3) выше раны, где артерия проходит над костью
- 4) ниже раны, где артерия проходит в толще мышцы
- 5) непосредственно в ране

Максимум за тестовые задания – 60 баллов.

Теоретические задания

Задание 1

МВД России создана памятка «Безопасное селфи», где наглядно, в виде пиктограмм, изображены наиболее травмоопасные случаи создания селфи. Впишите значение данных пиктограмм.

Задание 2

Дополните рекомендации по безопасному поведению при пожаре в лесу вписав недостающие слова.

Если ты обнаружил начинающийся пожар, например, небольшой травяной пал или тлеющую лесную подстилку у брошенного кем-то костра, постарайся потушить его своими силами. Иногда достаточно просто затоптать пламя или _____ (1) его ветками, или одеждой. Если есть лопатка, то можно начать «окапывать» источник огня, забрасывая его, предотвратить _____ (2) огня. После тушения нужно подождать и убедиться, что трава или подстилка действительно не _____ (3), иначе огонь может появиться вновь.

Если ты не можешь потушить возгорание сам – постарайся как можно быстрее оповестить о нём лесхоз, лесничество или по телефону: 01 (101 – для мобильных телефонов, _____ (4) – единый телефон экстренных служб) и выходи из леса. Если обнаружил уже разгоревшийся пожар, и огонь распространяется со скоростью, приблизительно равной скорости твоего движения, двигайся туда, откуда дует ветер, _____ (5) фронту распространения огня.

Задание 3

Опишите порядок надевания респиратора по сигналу «Внимание всем! Радиационная опасность», рекомендуемый МЧС России.

1.

2.

3.


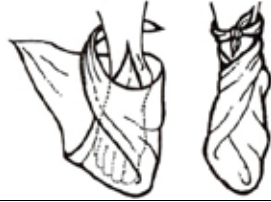


4.

5.

Задание 4

Установите соответствие между наименованием повязки и её изображением. Запишите в таблицу выбранные цифры под соответствующими буквами.

Наименование повязки	
А	Косыночная повязка
Б	Циркулярная повязка
В	Пращевидная повязка
Г	Спиральная повязка

Изображение повязки	
1	
2	
3	
4	

Ответ

А	Б	В	Г

Максимальная оценка за работу – 100 баллов.